

國小

年


班

座號


姓名

一、數數看，各有幾元？回答下面問題：每格2分，共8分

(1) 安安的钱：



(2) 偉偉的钱：

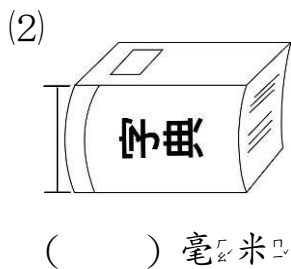
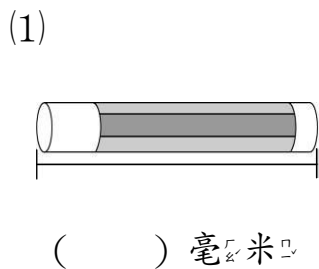


(3) 承(1)和(2)，安安和偉偉，誰的钱比較多？多幾元？
()，多()元。

二、填入適當的數：每格1分，共12分

- (1) () → 4536 → ()
→ 4538 → 4539 → ()
- (2) 6000 → 5000 → () →
() → ()
- (3) () → 5540 → ()
→ () → 5510 → 5500
- (4) () → () → 9600
→ 9700 → 9800 → ()
→ 10000

三、量量看：每題1分，共2分



四、下面敘述正確的在()裡畫○，錯誤的打×：每題2分，共10分

- () (1) 150×6 比 150×9 少 3。
- () (2) 5004 讀作五千零零四。
- () (3) $460 \text{ 毫米} = 46 \text{ 公分}$
- () (4) $1 \text{ 公分} = 100 \text{ 毫米}$
- () (5) 6556 的千位數字是 6，表示有 6 個 1000。

五、用直式算算看：每題2分，共16分

(1) $1565 - 357$

(2) $2641 + 259$

(3) $7000 - 3411$

(4) $6128 + 1164$

(5) 47×5

(6) 307×7

(7) 392×8

(8) 816×5

六、在□中填入適當的數字：

每格 2 分，共 6 分

(1)

$$\begin{array}{r} 35\square9 \\ - \square81 \\ \hline 2788 \end{array}$$

(2)

$$\begin{array}{r} 3\square7 \\ \times \quad 3 \\ \hline 951 \end{array}$$

七、填填看看：每格 2 分，共 14 分

- (1) 14 公分 = () 毫米
- (2) 6 公分 8 毫米 = () 毫米
- (3) 43 毫米 = () 公分 () 毫米
- (4) 2000 毫米 = () 公分 = () 公尺
- (5) 5 公尺 = () 毫米

八、把做法用法用算式記下來：

每題 4 分，共 32 分

- (1) 1 件外套賣 559 元，爸爸買了 4 件，共要付幾元？

- (2) 1 枝鉛筆的長度是 96 毫米，把 6 枝相同的鉛筆連在一起，共長幾公分幾毫米？

- (3) 哥哥有 2500 元，買一件衣服後，還剩下 1460 元，這件衣服賣幾元？

- (4) 昌鈺原有 1650 元，買球鞋花掉 486 元，還剩下幾元？

- (5) 家瑜的手掌寬是 10 公分 5 毫米，姿玲的是 8 公分 7 毫米，兩人的手掌寬相差幾公分幾毫米？

- (6) 弟弟有 408 元，哥哥的錢是弟弟的 5 倍，哥哥有幾元？

- (7) 紅色緞帶長 89 毫米，綠色緞帶長 95 毫米，兩條緞帶的長度合起來是幾公分幾毫米？

- (8) 一條緞帶長 3000 公分，妹妹用掉 75 公分，還剩下幾公分？