

國小

年

班

座號

姓名

一、選擇題：每題3分，共15分

- () (1) 「六千零五萬零八百二十」記作什麼？
 (①60050802 ②60050820
 ③6005820 ④6050820)
- () (2) 旋轉時固定的點叫作什麼？
 (①始邊 ②旋轉角 ③旋轉中心 ④終邊)
- () (3) 8個千萬、4個萬、7個百和2個十合起來是多少？
 (①8040720 ②8004072
 ③80047200 ④80040720)
- () (4) 360×80 的答案是多少？
 (①2880 ②28800
 ③288000 ④2880000)
- () (5) 三個角都是銳角的三角形叫做什麼？
 (①銳角三角形 ②鈍角三角形
 ③直角三角形 ④正三角形)

二、用直式算算看：每題4分，共16分

(1) $3125 \div 7$

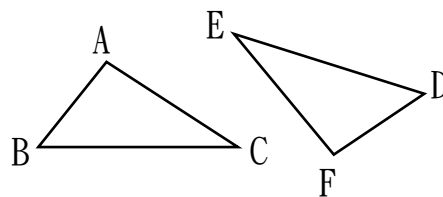
(2) $81 \div 15$

(3) 1986×7

(4) 125×22

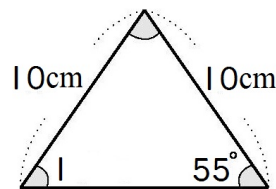
三、看圖回答問題：每格2分，共18分

(1) 下面是兩個全等三角形，



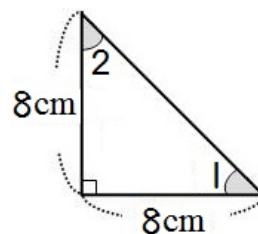
- ① $\angle B$ 的對應角是 () 。
- ② \overline{DE} 的對應邊是 () 。
- ③ \overline{AC} 的對應邊是 () 。
- ④ 頂點 E 的對應點是頂點 () 。

(2)



- ① 這個圖形是 () 三角形。
- ② $\angle 1$ 是 () 度。

(3)

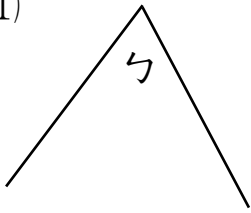


- ① 這個圖形是 () 三角形。
- ② $\angle 1$ 是 () 度，
 $\angle 2$ 是 () 度。

四、用量角器畫出一個 95 度的角：共 5 分

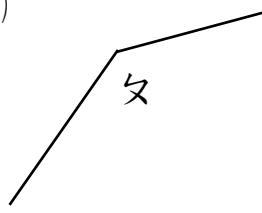
五、量量看，並回答問題：每格2分，共6分

(1)



() 度

(2)



() 度

(3) $\angle u$ 和 $\angle x$ 合起來是 () 度。

六、應用題：每題5分，共40分

(1) 一包糖果有700顆，平分成22袋，每袋有幾顆糖果？還剩下幾顆？
(5分)

(2) 旺來餐廳上週購買食材共花6張千元鈔票和50張百元鈔票，旺來餐廳上週的食材費是幾元？(4分)

(3) 1盒積木賣489元，趣味玩具店這個月賣出52盒，共賣得幾元？(5分)

(4) 欣欣公司去年共捐款1540萬元，今年比去年多捐1280萬元，今年共捐出幾元？
(5分)

(5) 電影院一排座位有35個，全部有25排，共有幾個座位？(5分)

(6) 把8542毫升的奶茶平分成7杯，每杯有幾毫升？還剩下幾毫升？(5分)

(7) 永旭用分期付款的方式買一臺冷氣機，每個月繳2215元，共付了9個月，這臺冷氣機是幾元？(5分)

(8) 博弘旅行社去年的營業額是56400000元，勝欣旅行社去年的營業額是83500000元，勝欣旅行社去年的營業額比博弘旅行社去年的營業額多幾元？(4分)